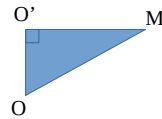


Iparcours page 66 n°2

- a. La section est un cercle de centre H et de rayon HA.
 - b. Le triangle AOH est rectangle en H.
- D'après le théorème de Pythagore, on a :
- $$OA^2 = OH^2 + HA^2$$
- $$7^2 = 4^2 + HA^2 \text{ d'où } HA^2 = 7^2 - 4^2 = 49 - 16 = 33 ;$$
- $$HA = \sqrt{33} \text{ cm}$$

Iparcours page 66 n°3

- a. OO'M est un triangle rectangle en O'.
 - b. D'après le théorème de Pythagore, on a :
- $$OM^2 = OO'^2 + O'M^2$$
- $$4^2 = 2^2 + O'M^2 \text{ soit } 16 = 4 + O'M^2$$
- Donc $O'M^2 = 16 - 4 = 12 ;$
- $$O'M = \sqrt{12} \text{ cm} \approx 3,5 \text{ cm}$$



- c. On peut utiliser la trigonométrie, car on est dans un triangle rectangle et qu'on connaît [O'O] qui est le côté adjacent à $\widehat{O'OM}$ et [OM] qui est l'hypoténuse.

Dans le triangle OO'M rectangle en O', on a :

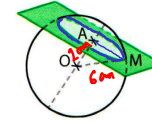
$$\cos \widehat{O'OM} = \frac{OO'}{OM} = \frac{2}{4}$$

D'où $\widehat{O'OM} = \arccos\left(\frac{2}{4}\right)$

Donc $\widehat{O'OM} = 60^\circ$

Corrigé de l'exercice n°31 page 271

31 On coupe une sphère de centre O et de rayon 6 cm par un plan passant par le point A tel que OA = 2 cm. M est un point de la sphère appartenant à ce plan.

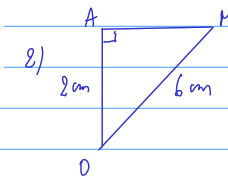


On suppose que le point A est le centre de la section plane.

MAIS ce n'est donc d'après Pythagore, on a : pas précision dans l'énoncé.

1. Quelle est la nature de cette section plane ?
2. Calculer une valeur approchée au mm près de AM.

1) La nature de section plane est un cercle.



$$OM^2 = OA^2 + AM^2$$

$$6^2 = 2^2 + AM^2$$

$$36 = 4 + AM^2$$

$$AM^2 = 36 - 4$$

$$AM^2 = 32$$

$$AM = \sqrt{32} \approx 5,656854$$

$$\approx 5,7 \text{ cm}$$

Corrigé de l'exercice n°40 page 275

L'aquarium Pour aller plus loin

Un aquarium a la forme d'une sphère, de 12 cm de rayon, coupée en sa partie haute : c'est une « calotte sphérique ».

La hauteur totale de l'aquarium est 19,2 cm.

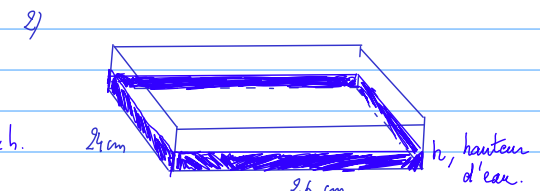
1. Le volume d'une calotte sphérique est donné par la formule : $V = \frac{\pi h^2}{3} (3R - h)$ où R est le rayon de la sphère et h est la hauteur de la calotte sphérique. Calculer la valeur approchée du volume de cet aquarium au cm³ près.
2. Cet aquarium contient 6 litres d'eau. On décide de changer l'eau de cet aquarium en transvasant son contenu dans un récipient parallélépipédique de 26 cm de longueur et de 24 cm de largeur. Déterminer une valeur approchée au mm près de la hauteur de l'eau dans ce récipient.

1) $V = \frac{\pi h^2}{3} (3R - h)$

$$V = \frac{\pi \times 19,2^2}{3} (3 \times 12 - 19,2)$$

$$V \approx 6485,254 \text{ cm}^3$$

$$V \approx 6485 \text{ cm}^3$$



1L = 1 dm³

Volume d'un parallépipède = L x l x h.

$$L \times l \times h = 6 \text{ dm}^3$$

$$2,6 \text{ dm} \times 2,4 \text{ dm} \times h = 6 \text{ dm}^3$$

$$h = \frac{6 \text{ dm}^3}{2,6 \text{ dm} \times 2,4 \text{ dm}}$$

$$h \approx 0,9605385 \text{ dm} \approx 0,96 \text{ dm} \text{ au mm près.}$$

$$\frac{\text{dm}^3}{\text{dm}^2} = \frac{\text{dm} \times \text{dm} \times \text{dm}}{\text{dm} \times \text{dm}}$$

Corrigé de l'exercice n° 46 page 276

46 Meteor Crater

Il y a environ 50 000 ans, une météorite s'est écrasée en Arizona, dans l'ouest des États-Unis, creusant un cratère de 1 300 mètres de diamètre.

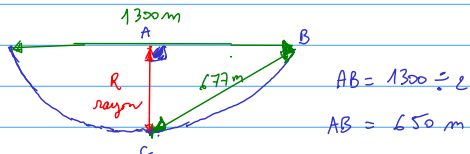


La distance entre le bord et le fond du cratère, mesurée avec un télémètre (appareil permettant de mesurer les distances) est de 677 mètres.

- Calculer le diamètre théorique de cette météorite.
- Sur Internet, on trouve l'information suivante : « Le cratère a été formé par une météorite d'environ 50 m de diamètre. » Comment expliquer une telle différence ?

Question 1

On modélise le cratère par une demi-sphère.



R : rayon de la météorite.

ABC est rectangle en A donc d'après Pythagore, on a :

$$BC^2 = AC^2 + AB^2$$

$$677^2 = AC^2 + 650^2$$

$$AC^2 = 677^2 - 650^2$$

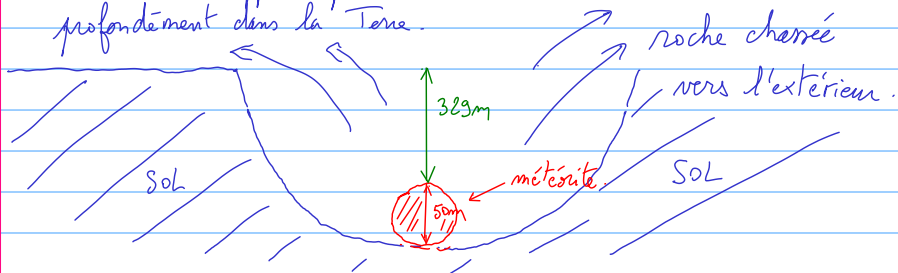
$$AC^2 = 35829$$

$$AC \approx 189 \text{ m}$$

Le diamètre théorique est de $2 \times AC = 2 \times \sqrt{35829} \approx 379 \text{ m}$

Question 2 : Le diamètre réel est de 50 m.

Cela laisse supposer que la météorite est entrée très profondément dans la Terre.



Corrigé de l'exercice n° 1 p 278

Exercice 1

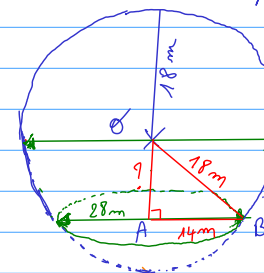
La Géode, située dans le parc de la Cité des Sciences, a été construite à Paris en 1985.



C'est une calotte sphérique (sphère de rayon 18 m coupée) posée sur le sol. Le diamètre au sol est de 28 m.

- Calculer la hauteur de la Géode.

Modélisation du problème.



Déterminons la longueur OA.

Dans le triangle OAB rectangle en A, d'après le théorème de Pythagore on a :

$$OA^2 + AB^2 = OB^2$$

$$OA^2 + 14^2 = 18^2$$

$$OA^2 = 18^2 - 14^2$$

$$\text{donc } OA = \sqrt{18^2 - 14^2} \approx 11,32 \text{ m}$$

La hauteur totale de la Géode est égale à OA + le rayon de la sphère au dessus de OA

$$= 11,32 + 18$$

$$= 29,32 \text{ m}$$