

UPE2A-MODULE HISTOIRE GEO. / D. KARMALI

NIVEAU A1.2

- JASU MARIYAN Joysan Peries - 4^{ème} Dierx
- JASU MARIYAN Joysani Glorina Peries - 4^{ème} Dierx
- UDAGEDARA RALALAGE Tharushi Madushing - 4^{ème} Dierx
- UDAGEDARA RALALAGE Nikesh - 3^{ème} Van Gogh
- GALBADAGE Shaini Uthpala Sath - 3^{ème} Delacroix

NIVEAU A2

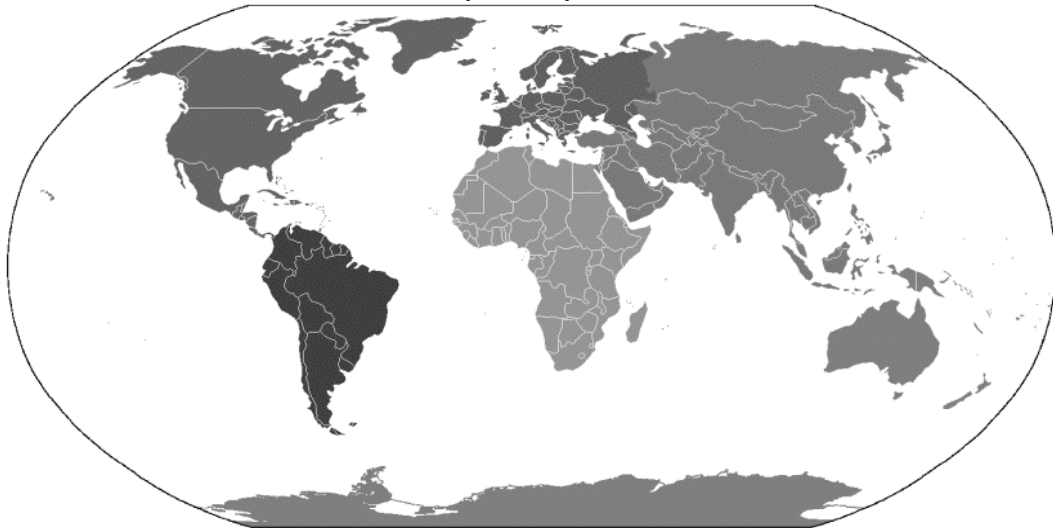
- MADI Fayad 6^{ème} Hubert
- ALICOMBO Naoumane 5^{ème} Bizet
- HAROUNA Archidine 5^{ème} Ravel
- KAWAMI Djanfar 5^{ème} Ravel
- ABDALLAH Mariamou 4^{ème} Pagnol
- ALICOMBO Maroine 4^{ème} Rimbaud
- M'MADI Nadjime 5^{ème} J (J. Dodu)

COURS EN LIGNE


DU LUNDI 27 AVRIL AU JEUDI 30 AVRIL 2020

1) Observe ces différentes représentations de la terre :


Un planisphère



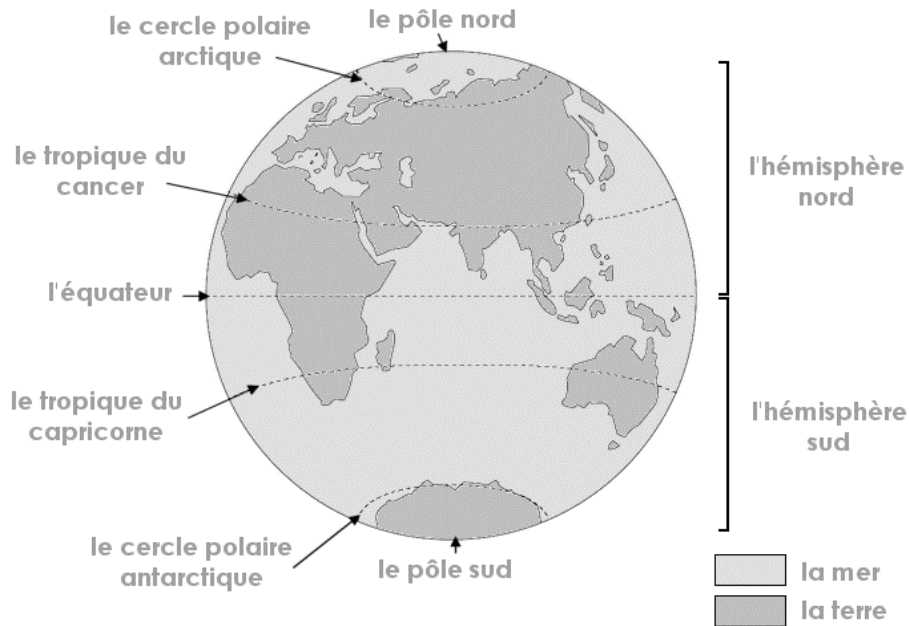
Un globe terrestre



Une photo satellite



Les lignes imaginaires



2) Apprends la leçon (par cœur) :

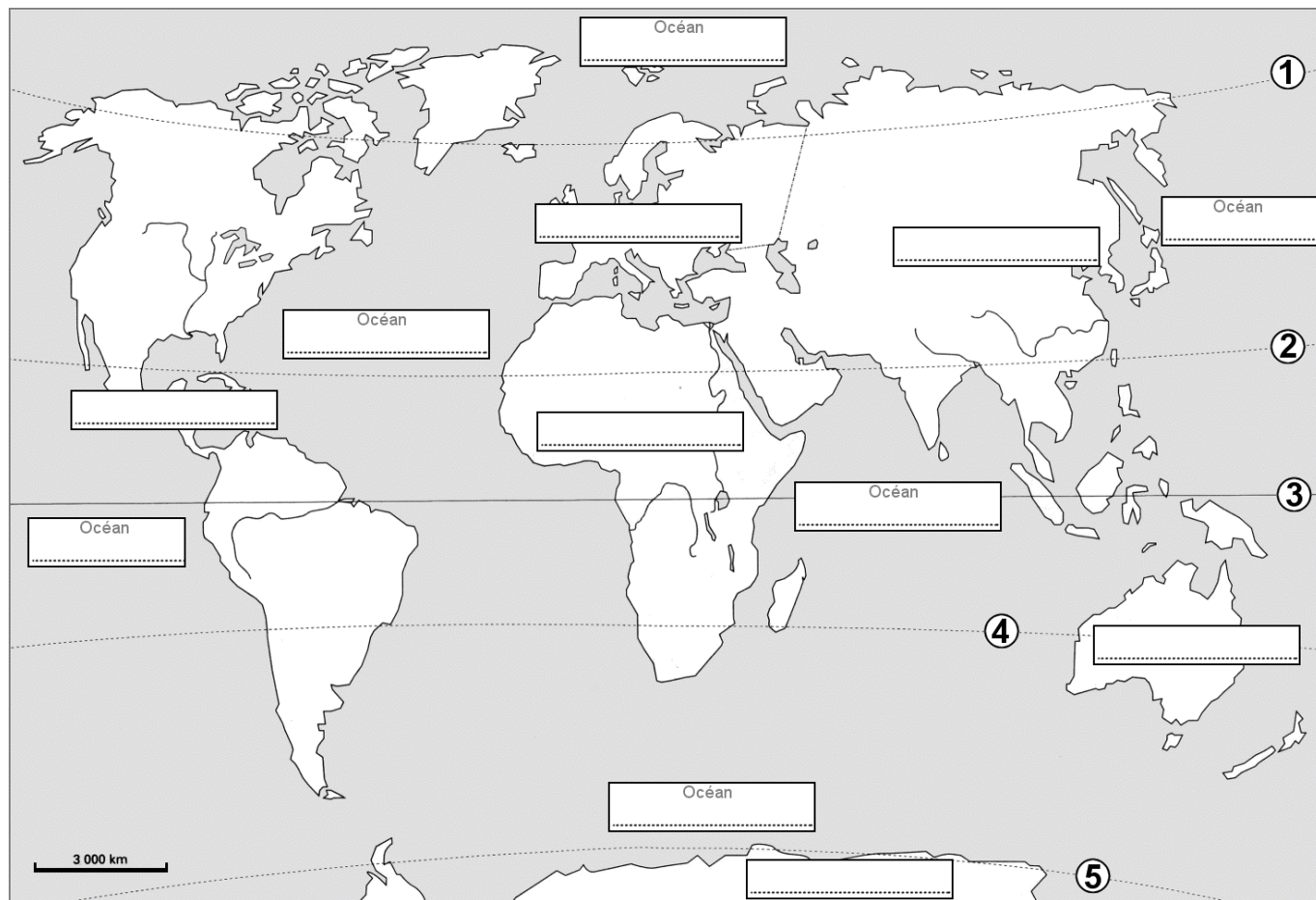
Pour se repérer sur la Terre, on utilise des **lignes imaginaires** :

- **L'Equateur** est une ligne imaginaire qui coupe la terre en deux parties égales : les **hémisphères**. L'équateur est considéré comme le **parallèle 0**.
- **Un parallèle** est un **cercle parallèle** à l'Equateur : Les **cercles polaires** à $66^{\circ}33'$ de l'Equateur, et les **tropiques** à $23^{\circ}27'$ de l'Equateur, sont des parallèles.
- **Un méridien** est un **demi-cercle** qui va d'un **pôle** à l'autre. On compte les méridiens à partir du **méridien de Greenwich**, considéré comme le **méridien 0**.

On peut situer tout point sur la Terre en donnant ses coordonnées, c'est-à-dire sa **latitude** et sa **longitude**.

On exprime la latitude et la longitude en **degrés (°)**, **minutes (')** et **secondes (")**

3) Fais l'activité :



- Complète la carte en indiquant le nom des océans et des continents.
- Où sont ces lignes imaginaires :

L'Equateur

Le tropique du Capricorne

Le tropique du Cancer

Le cercle polaire arctique

Le cercle polaire antarctique

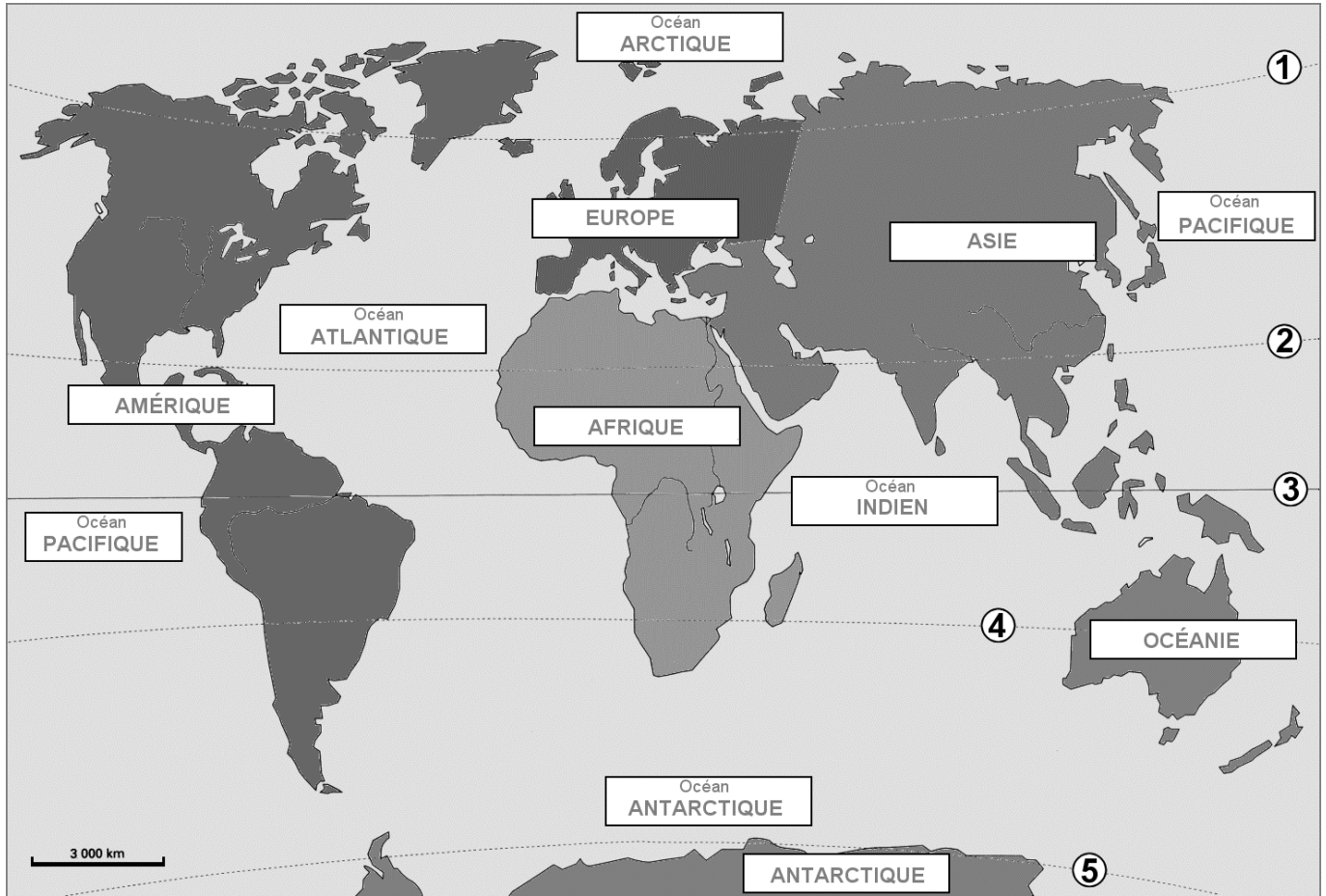
- Donne un titre à ta carte :

.....

CORRECTIONS

Fais l'activité :

- Complète la carte en indiquant le nom des océans et des continents.



- Où sont ces lignes imaginaires :

L'Equateur **3** Le tropique du Capricorne **4** Le tropique du Cancer **2**
Le cercle polaire arctique **1** Le cercle polaire antarctique **5**

- Donne un titre à ta carte :

Planisphère de la Terre : les continents et les océans