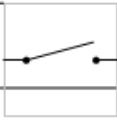



# UPE2A MODULE SCIENCES 1 / E. GAUVIN

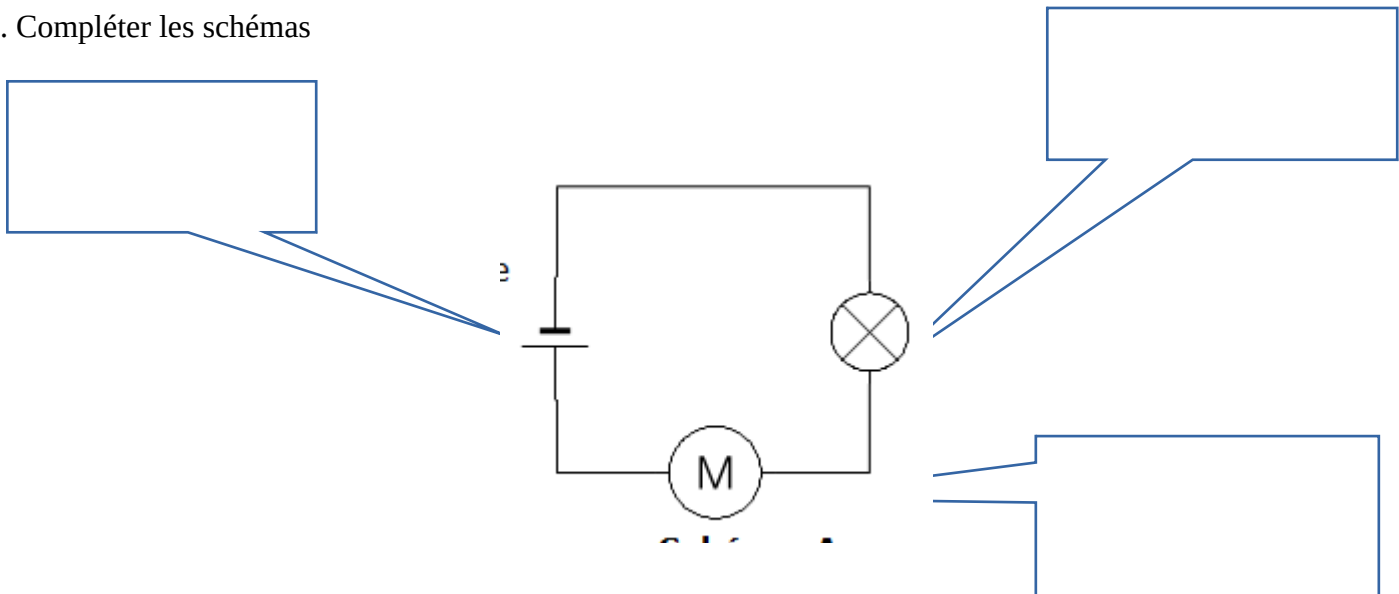
- PAKIYARASA Psaraniya 4<sup>e</sup> Dierx
- JASU MARIYAN Joysan Peries - 4<sup>ème</sup> Dierx
- JASU MARIYAN Joysani Glorina Peries - 4<sup>ème</sup> Dierx
- UDAGEDARA RALALAGE Tharushi Madushing - 4<sup>ème</sup> Dierx
- UDAGEDARA RALALAGE Nikesh - 3<sup>ème</sup> Van Gogh
- GALBADAGE Shaini Uthpala Sath - 3<sup>ème</sup> Delacroix

## Représentation d'un circuit électrique

1. Compléter le tableau. Voir les fiches sur l'électricité dans le cahier de Sciences

|                   |      |   |  |       |
|-------------------|------|---|--|-------|
| Symbole du dipôle |      |   |  |       |
| Nom du dipôle     | pile |  |  | lampe |

2. Compléter les schémas



3. Relier le dessin à la bonne représentation.

