

Cette semaine
Silence on lit
à 10h00 !

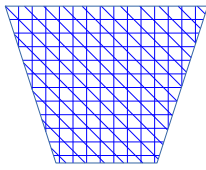
Vendredi 17 avril

Indique bien les rubriques
(avec les étoiles) pour la
présentation de ton cahier.

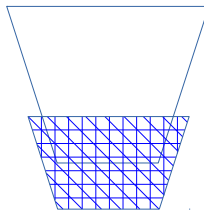


Echauffement 16

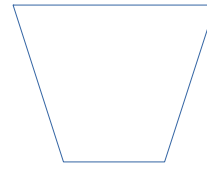
Prends 3 verres identiques. Remplis d'eau le verre A à ras bord.
Remplis le verre B à moitié. Ne remplis pas le verre C.
Place les verres devant toi dans cet ordre :



A



B



C

Prends une petite cuillère et tape régulièrement sur chaque verre
dans l'ordre indiqué. Marque un silence si tu vois (🔔)

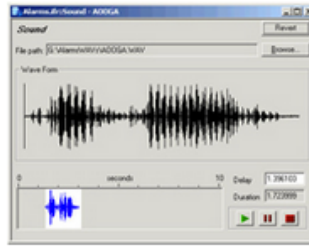
A A A B C (🔔) B (🔔) A C B B A

Entraîne toi un peu. Quelle chanson joues-tu ?

Réponse: Le nom de la chanson est..... .



C'est vendredi, c'est rébus !



r' 2



Réponse:.....

Aide pour le rébus

Ecris au dessus des dessins les sons trouvés en rouge et sous les dessins les mots trouvés en bleu

★ numération

Lis bien tous ces nombres à voix haute avant de faire l'exercice.
Range ces nombres du plus petit au plus grand.

31 - 13 - 34 - 78 - 43 - 60

97 - 29 - 86 - 11 - 78 - 30

27 - 212 - 99 - 136 - 127 - 68

341 - 76 - 145 - 276 - 59 - 356

Aide: Un nombre à 3 chiffres est toujours plus grand qu'un nombre à 2 chiffres. Pour comparer des nombres à 2 chiffres, on compare d'abord le chiffre des dizaines. Pour comparer des nombres à 3 chiffres, on compare d'abord le chiffre des centaines.

★ Problème 13

Deux grilles, en partie transparentes, vont glisser comme indiqué pour recouvrir le carré central (voir figure ci-contre).

Une seule petite case restera alors visible, laquelle ?


A) 

B) 

C) 

D) 

E) 



Réponse: La case visible restante est la case..... .

Aide problème 13: Dessine le carré centrale et ses figures et barre chaque case que tu vois noire dans les deux grilles transparentes.

★ Problème 14

Koko a cassé son miroir en morceaux comme on le voit sur le dessin ci-contre. Combien de morceaux ont exactement quatre côtés ?


A) 2

B) 3

C) 4

D) 5

E) 6



Aide problème 14: Sur ce dessin il y a des morceaux à 3 côtés, 4 côtés et 5 côtés. Commence par le morceau du milieu puis tourne dans le sens des aiguilles d'une montre pour ne pas en oublier un.

Réponse: Il y a morceaux avec 4 côtés.